

## ВАРИАНТ 2

1 Впиши пропущенные слова.

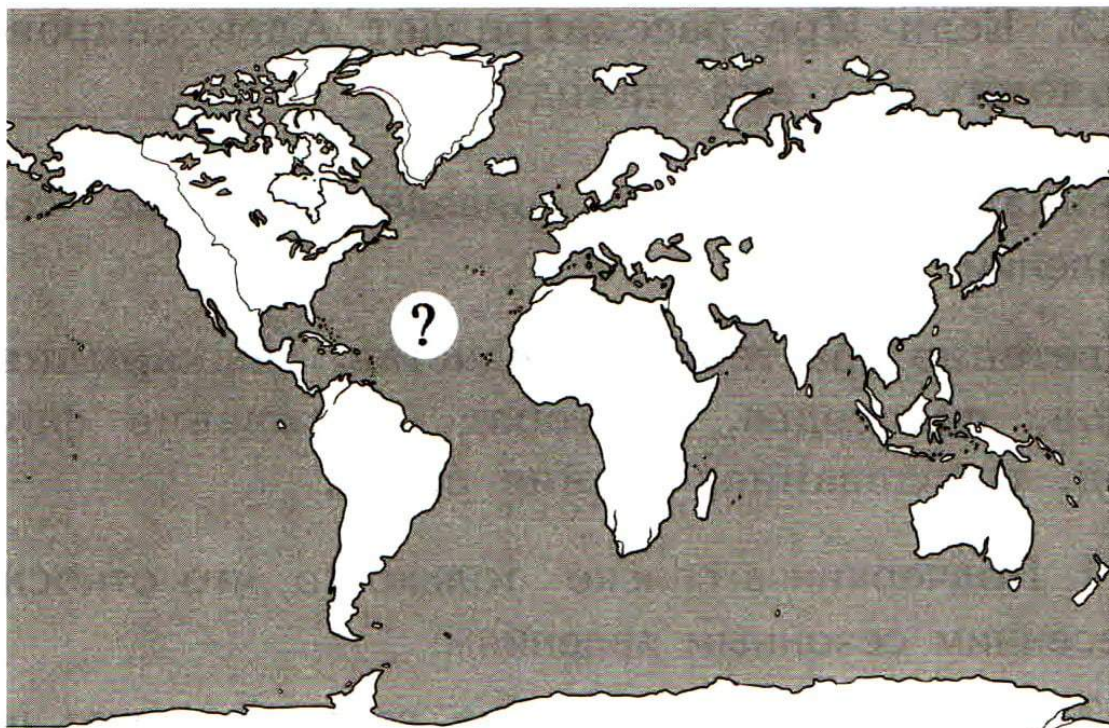
Герб, флаг, гимн — \_\_\_\_\_  
\_\_\_\_\_ Российской Федерации.

2 У каждого народа нашей страны родной язык — русский.

Верно ли высказывание? Если верно, запиши в строке ответа «да». Если неверно, подчеркни ошибку и запиши в строке ответа краткий правильный ответ.

Ответ: \_\_\_\_\_ .

3 Какой океан обозначен на карте мира знаком вопроса?



3.1. Запиши название в строке ответа.

Ответ: \_\_\_\_\_ .



3.2. Этот океан омывает восточные побережья двух материков. Запиши названия этих материков.

Ответ: \_\_\_\_\_ .

- ④ Узнай животное по описанию. Запиши название в строке ответа.

Это крупное насекомое сохранилось с древнейших времён. Оно живёт в лесу, а его личинки поедают древесину. Насекомое занесено в Красную книгу России.

Ответ: \_\_\_\_\_ .

- ⑤ Сделай вывод, в каком городе находится Ира. Закончи каждое предложение.

5.1. Если Ира рассматривает здание Арсенала, то она находится \_\_\_\_\_ .

5.2. Если Ира рассматривает Александровскую колонну, то она находится \_\_\_\_\_ .

- ⑥ Внимательно прочитай приведённый ниже список явлений.

Цветение растений, ледостав, выкармливание птенцов, половодье, листопад, созревание фруктов и ягод, гнездование, таяние снега.

6.1. Подчеркни в списке только то, что относится к весенним сезонным явлениям.

6.2. Какое из этих весенних явлений может происходить и в другое время года? Запиши, какое это явление и в какое ещё время года оно может быть.


Ответ: \_\_\_\_\_ .



7) Какие царства живой природы изображены на рисунках? Запиши названия в таблицу.



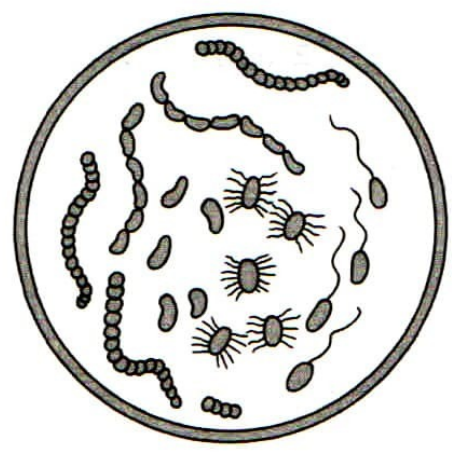
1)



2)



3)



4)

Ответ:

1	2	3	4

8) Определи, какое из созвездий не может быть в данной группе. Подчеркни его название. Запиши в строке ответа, почему оно лишнее.

Скорпион, Лев, Лебедь, Рак, Рыбы, Козерог.

Ответ: \_\_\_\_\_

9

Какие продукты растительного происхождения, а какие — животного происхождения? Соотнеси цифры с буквами, запиши буквы в таблицу.

- 1) растительное происхождение
- 2) животное происхождение

- А) сливочное масло
- Б) вишнёвый компот
- В) яичница
- Г) икра из кабачков

Ответ:

1	
2	

10

Подумай, как человек может охранять неживую природу. Запиши ответ.

Ответ:

---



---



---



---



---