

ВАРИАНТ 3

- ① Перечисли цвета Государственного флага Российской Федерации (сверху вниз).

Ответ: _____ .

- ② Традиционное состязание башкир во время народных праздников — оленьи скачки.

Верно ли высказывание? Если верно, запиши в строке ответа «да». Если неверно, подчеркни ошибку и запиши в строке ответа краткий правильный ответ.

Ответ: _____ .

- ③ Рассмотрю схему составных частей компаса.

Предохранитель



Магнитная стрелка

Шкала

?


3.1. Что пропущено? Запиши в строке ответа.

Ответ: _____ .

3.2. Для чего нужен компас? Напиши кратко.

Ответ: _____ .

- 4 Узнай животное по рисунку. Запиши название в строке ответа.



Ответ: _____ .

- 5 Сделай вывод. Впиши пропущенные слова.

5.1. Если объект природы питается и растёт, то это объект _____ природы.

5.2. Если объект природы не дышит, то это объект _____ природы.

- 6 Внимательно прочитай приведённый ниже список явлений.

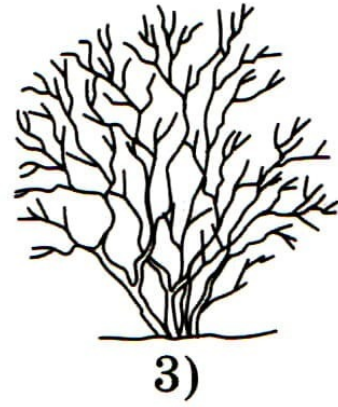

Листопад, ледостав, облачность, таяние снега, метель, гроза, повышение температуры воздуха, ледоход.

6.1. Подчеркни в списке только то, из чего складывается погода.

6.2. Какое из этих погодных явлений может быть только в одно время года? Укажи название времени года и запиши, какое это явление.

Ответ: _____
 _____.

7) Какие виды растений изображены на рисунках? Запиши названия видов в таблицу.



Ответ:

1	2	3

8) Определи, что лишнее в данной группе. Подчеркни название. Запиши в строке ответа, почему оно лишнее.

Известняк, гранит, мрамор, глина, кремьнь, слюда.

Ответ: _____
 _____.

9) Какие правила безопасности относятся к поведению в быту, а какие — к поведению на природе? Соотнеси цифры с буквами, запиши буквы в таблицу.

1) правила безопасности в быту

2) правила безопасности на природе

А) осторожно обращаться с электроприборами

Б) не играть со спичками и зажигалками

В) не разжигать костёр без взрослых

Ответ:

1	
2	

10) Подумай, какую пользу приносят человеку домашние животные. Запиши ответ.

Ответ:
